

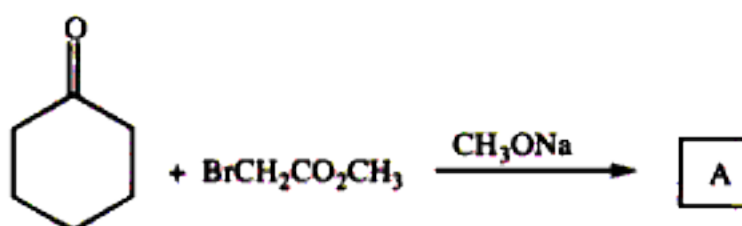
(有機化学 I・1 枚中の 1 枚目)

【有機化学 I】 (全 1 題)

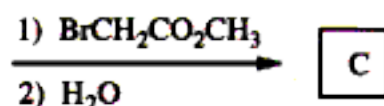
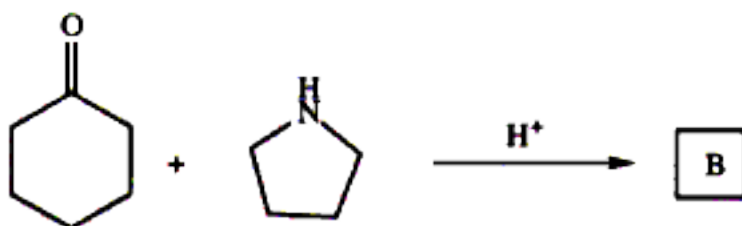
[問題 1]

次の反応で得られる化合物 A、B、C、D、E、F の構造式を書け。また、その構造式を推察するにいたった反応機構を簡潔に示せ。

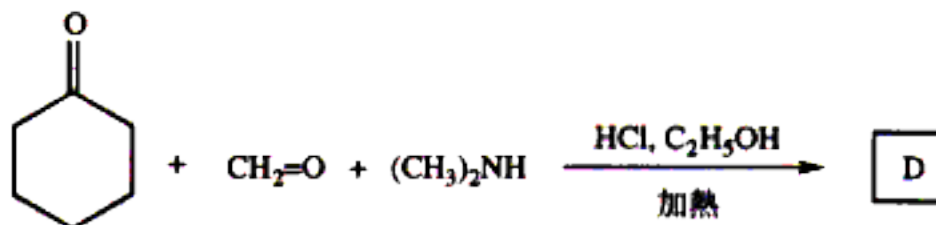
問 A



問 B



問 C



問 D

